

Reference ID:(10469) Choose the appropriate prepositional phrase for the given sentence:

If you don't hold the string tightly, the balloon will _____.

A.blow away

B.blew away

C.blow off

D.blown away

Answer: A.blow away

Reference ID:(10500) पुढील वाक्प्रचारांच्या योग्य अर्थाचा पर्याय निवडा.
खाजवून खरूज काढणे -

A.रोगाला आमंत्रण देणे

B.मुद्दाम कळ लावून भांडण काढणे

C.एकमेकांना रक्तडंबंबाळ करणे

D.उपकाराची जाणीव न ठेवणे

Answer: B.मुद्दाम कळ लावून भांडण काढणे

Reference ID:(10730) एका बॉक्समध्ये 4 पांढरे, 5 लाल आणि 6 पिवळ्या रंगाचे चेंडू आहेत. बॉक्समध्ये यादृच्छिकपणे एक चेंडू उचलला जातो. उचललेला चेंडू पांढरा किंवा लाल असण्याची संभाव्यता काय आहे?

A.3/5

B.2/5

C.5/3

D.5/2

Answer: A.3/5

Reference ID:(10463)

Choose the appropriate articles to complete the given sentence:

My grandmother told me an interesting story that had ____ characters of ____ young boy, ____ mouse, and ____ umbrella.

A.the, a, a, an

B.a, a, a, the

C.the, the, the, an

D.a, a, a, the

Answer:

A.the, a, a, an

Reference ID:(10498)

कोणत्या दोन विभक्तीचे प्रत्यय सारखे असतात?

A.द्वितीया आणि प्रथमा

B.प्रथमा आणि चतुर्थी

C.द्वितीया आणि चतुर्थी

D.द्वितीया आणि तृतीया

Answer:

C.द्वितीया आणि चतुर्थी

Reference ID:(10726)

जीवनसत्त्वं ही आपले शरीर, डोळे, दात आणि हिरड्यांना निरोगी आणि मजबूत ठेवणारी अन्नतत्त्व असतात. खालीलपैकी कोणता जीवनसत्त्वाचा प्रकार नाही?

A.फ जीवनसत्व

B.ई जीवनसत्व

C.के जीवनसत्व

D.डी जीवनसत्व

Answer:

A.फ जीवनसत्व

Reference ID:(10482)

खालील वाक्यादतील अधोरेखित शब्दाचे लिंग ओळखा.
शैलाचा दीर काल आला.

A.पुल्लिंग

B.स्त्रीलिंग

C.नपुसकलिंग

D.उभयलिंग

Answer:

A.पुल्लिंग

Reference ID:(10725)

एका उन्हाळ्यातील उष्ण दुपारच्या वेळी पांढऱ्या कापडापासून बनवलेला तंबू वापरण्यास प्राधान्य दिले जाईल, कारण पांढरा रंग _____ आहे.

A.उष्णतेचा मंद शोषक आणि चांगला परावर्तक

B.उष्णतेचा उत्तम शोषक आणि मंद परावर्तक

C.उष्णतेचा शोषकही नाही आणि परावर्तकही नाही

D.उष्णतेचा सुवाहक

Answer:

A.उष्णतेचा मंद शोषक आणि चांगला परावर्तक

Reference ID:(10499)

मराठी भाषेतील 'ळ' या वर्णाचे वैशिष्ट्य काय?

A.मृदू वर्ण

B.स्वतंत्र वर्ण

C.कठोर वर्ण

D.आद्य वर्ण

Answer:

B.स्वतंत्र वर्ण

Reference ID:(10951)

एका इमारतीतील पहिल्या मजल्याची उंची $14\frac{1}{4}$ मीटर आहे तर दुसऱ्या मजल्याची उंची $22\frac{1}{3}$ मीटर आहे. दुसऱ्या मजल्याचं छत पहिल्या मजल्यापेक्षा किती उंच आहे?

$9\frac{1}{12}$

$10\frac{1}{12}$

$$6\frac{1}{12}$$

$$8\frac{1}{12}$$

Answer:

$$8\frac{1}{12}$$

Reference ID:(10478)

दिलेल्या- शब्दमगटातून विरुद्धार्थी शब्द ओळखा.
रंग - फिकट X -----

A.चकचकीत

B.गडद

C.उडालेला

D.भडक

Answer:

B.गडद

Reference ID:(10461)

Choose the option with the appropriate prefix to complete the given sentence:

I stood as the ___runner in the running race.

A.fore-

B.pre-

C.for-

D.bi-

Answer:

A.fore-

Reference ID:(10714)

भारताच्या मुख्य निवडणूक आयुक्ताचा कार्यकाळ किती असतो?

A.4 वर्षे

B.5 वर्षे

C.6 वर्षे

D.8 वर्षे

Answer:

C.6 वर्षे

Reference ID:(10465) Choose the most suitable determiner for the given sentence:
You can buy these maps at ____ bookstore. They all have them.

A.a lot of

B.several

C.some

D.any

Answer: D.any

Reference ID:(10492) रिकाम्या जागी योग्य पर्याय निवडा.
शाळा सुटली, घरी जाण्याची वेळ झाली आहे.

A.आता

B.उद्या

C.नेहमी

D.दररोज

Answer: A.आता

Reference ID:(10731) एका बॅगेमध्ये 6 पांढरे आणि 8 पिवळे चेंडू आहेत. ते चांगले मिसळले गेले आणि यादृच्छिकपणे एक चेंडू काढला गेला. पांढरा चेंडू मिळण्याची संभाव्यता काढा?

A.3/7

B.7/3

C.2/7

D.7/2

Answer: A.3/7

Reference ID:(10453) Choose the option that has the correct spelling for the missing word in the given sentence:

_____ you use it or not, you will need to pay for it.

A.Whether

B.Weather

C.Weathar

D.Weater

Answer: A.Whether

Reference ID:(10718) मार्च 2019 मध्ये ए-सॅट मिसाइलच्या मदतीने लाइव सॅटेलाइटला यशस्वीपणे नष्ट केलेल्या योजनेचे नाव सांगा?

A.मिशन शक्ती

B.मिशन पराक्रम

C.मिशन सुरक्षा

D.मिशन रक्षा

Answer: A.मिशन शक्ती

Reference ID:(10458) Fill in the blank with the correct noun for the given sentence:

The method of training one's memory with images is called _____.

A.visuals

B.visualizing

C.visualization

D.visions

Answer: C.visualization

Reference ID:(10710) कोणत्या वर्षामध्ये प्रदेशामधील ब्रिटीश सत्तेला चालना देत जनरल वेलस्लीद्वारे अहमदनगर किल्ला हस्तगत केला गेला?

A.1857

B.1803

C.1761

D.1707

Answer: B.1803

Reference ID:(10744)

दोन फासे एकदाच फेकल्यास एकूण 8 किंवा 10 मिळण्याची संभाव्यता आहे:

A.1/6

B.2/9

C.2/3

D.1/4

Answer:

B.2/9

Reference ID:(10702)

26 फेब्रुवारी 2019 मध्ये भारतीय आयएएफ फायटर विमानांनी पाकिस्तानातील जैश-ए-मोहंमद च्या प्रशिक्षण शिबिरावर हल्ला केला त्या जागेचे नाव सांगा.

A.कारगिल

B.बालाकोट

C.रावळपिंडी

D.लाहोर

Answer:

B.बालाकोट

Reference ID:(10456)

Choose the correct form of adjective for the given sentence:

India is a noble, gorgeous land, teeming with _____ resources.

A.tremendous

B.natural

C.supernatural

D.excess

Answer:

B.natural

Reference ID:(10747)

एका विशिष्ट दिवशी, जेव्हा फोरेक्सने 1 डॉलर बरोबर 45 रुपये आणि 1 रुपया म्हणजे 3 येन असा दर सांगितला, तेव्हा माझ्याकडे बचत केलेले 21,000 रुपये होते. त्यापैकी मी 200 डॉलर विकत घेतले आणि राहिलेले सगळे पैसे येन घेण्यात खर्च केले. तर ह्या व्यवहारात माझ्याकडे किती येन आले असतील?

A.63000 येन

B.54000 येन

C.45000 येन

D.36000 येन

Answer: D.36000 येन

Reference ID:(10724) भारतामधील युनेस्को जागतिक वारशाच्या ठिकाणांची एकूण संख्या काय आहे?

A.100

B.37

C.58

D.61

Answer: B.37

Reference ID:(10719) 27 फेब्रुवारी रोजी रशिया, भारत आणि चीनच्या (आरआयसी) परराष्ट्र मंत्र्यांची 16 वी सभा कोणत्या शहरामध्ये आयोजित केली गेली होती?

A.वुजहेन

B.गुआंगजौ

C.सेंट पीटर्सबर्ग

D.काजान

Answer: A.वुजहेन

Reference ID:(10473) Choose the correct form of verb that is in agreement with the subject:
Five rupees _____ an excessive price to pay for a pen knife.

A.are

B.is

C.have been

D.are being

Answer: B.is

Reference ID:(10477) 'तव नयनांचे द्रुलहलले गं' या ओळीतील अधोरेखित शब्दासाठी समानार्थी पर्याय शोधा.

A.पाकळी

B.सेना

C.विभाग

D.दलदल

Answer:

A.पाकळी

Reference ID:(10733)

एक दुकानदार 7820 रुपयांचे सामान खरेदी करतो आणि त्याची किंमत 25% पर्यंत वाढवल्यानंतर सामानाची विक्री करतो. नवी किंमत काढा.

A.1955 रुपये

B.9775 रुपये

C.8885 रुपये

D.9255 रुपये

Answer:

B.9775 रुपये

Reference ID:(10740)

अ तोटी एका टाकीला चार तासांत भरते तर ब तोटी त्या टाकीला सहा तासांत पूर्ण रिकामी करते. जर त्या दोन्ही तोट्या एकाच वेळी उघड्या ठेवल्या तर ती टाकी इतक्या वेळात भरेल:

A.12 तास

B.15 तास

C.18 तास

D.21 तास

Answer:

A.12 तास

Reference ID:(10496)

पुढील वाक्यांमध्ये योग्य ते अव्यय घाला.
युद्धकाळात बहुतेक सर्व राष्ट्रे अनेस्ततनाभूत झाली; ----- बहुतेकांनी पुन्हा उभारीही घेतली.

A.अथवा

B.परंतु

C.कारण

D.सबब

Answer:

B.परंतु

Reference ID:(10455) Out of the following options, choose the rightly punctuated sentence.

A.The secretary maintains the step-by-step procedures of all processes.

B.The secretary maintains the step by step procedures of all processes?

C.The secretary maintains the-step-by-step procedures of all processes.

D.The secretary maintains the step by step-procedures of all processes.

Answer: A.The secretary maintains the step-by-step procedures of all processes.

Reference ID:(10454) Choose the appropriate option with the correct punctuation marks for the given sentence:

she said im going to meet my grandmother

A.She said 'Im going to meet my grandmother'

B.She said, "Im going to meet my grandmother"

C.She said, "I'm going to meet my grandmother."

D.she said I'm going to meet my grandmother.

Answer: C.She said, "I'm going to meet my grandmother."

Reference ID:(10707) अन्न प्रक्रियणाच्या केंद्रीय मंत्री सौ. हरसिमरत बादल यांनी पुरवठा शृंखलेमधील प्रत्येक टप्प्यावर अन्नाचा अपव्यय कमी करण्यासाठी महाराष्ट्र राज्यामधील _____ जिल्ह्यामध्ये दुसऱ्या मेगा फुड पार्कचे उद्घाटन केले.

A.औरंगाबाद

B.नाशिक

C.वर्धा

D.नागपूर

Answer: A.औरंगाबाद

Reference ID:(10709)

तेलंगणामधील कोणता मतदारसंघ 2019 च्या लोक सभा निवडणूकीमध्ये मोठ्या संख्येने उमेदवारांच्या संख्येमुळे इलेक्ट्रॉनिक वोटिंग मशीन्सच्या रेकॉर्ड संख्येचा वापर केल्यामुळे गिनिज बुक ऑफ वर्ल्ड रेकॉर्ड्समध्ये प्रवेश करू शकते?


- A.खम्माम
- B.निजामाबाद
- C.हैदराबाद
- D.मलकाजगिरि

Answer:

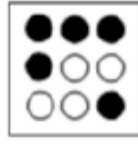
B.निजामाबाद

Reference ID:(10750)

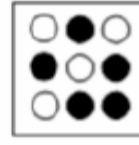
खाली दिलेल्या क्रमामध्ये पुढील आकृती कोणती असेल?



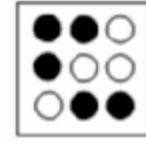
i







ii




iii



iv



Answer:



Reference ID:(10475)

Choose the correct form of tense for the given sentence:

For how long _____ you _____ French?

- A.are, learnt
- B.have, been learning

C.had, learning

D.was, learned

Answer: B.have, been learning

Reference ID:(10485) पुढील वाक्य वाचून योग्य वाक्या ओळखा.

A.त्याने रस्त्यावर गाडी धडकवली.

B.तो रस्त्यावर गाडी धडकवली.

C.ते रस्त्यावर गाडी धडकवली.

D.त्याने रस्त्यावर गाडी धडकवले.

Answer: A.त्याने रस्त्यावर गाडी धडकवली.

Reference ID:(10489) अधोरेखित क्रियापदांचा योग्य प्रकार ओळखा.
त्याला चालता-चालता वाचायची सवय आहे.

A.शक्य

B.प्रयोजक

C.साधित

D.संयुक्त

Answer: C.साधित

Reference ID:(10736) सरासरी काढा.
59, 65, 78, 78, 98 & 72

A.98

B.56

C.65

D.75

Answer: D.75

Reference ID:(10706) प्रशासकीय न्यायासन कायदा, 1985 च्या कोणत्या कलमानुसार, महाराष्ट्र राज्याच्या शासकिय सेवकांच्या सर्व सेवा प्रकरणांच्या बाबतीत या न्यायासनाकडे उच्च न्यायालयाचे सर्व अधिकार असतील?

A.कलम 10

B.कलम 15

C.कलम 11

D.कलम 18

Answer: B.कलम 15

Reference ID:(10717) सप्टेंबर -2018 मध्ये पुणे येथे _____राष्ट्रांचा लष्करी क्षेत्र प्रशिक्षण अभ्यास (MILEX -18) आयोजित करण्यात आला होता.

A.सार्क

B.बीआयएमएसटीइसी

C.ब्रिक्स

D.ओपेक

Answer: B.बीआयएमएसटीइसी

Reference ID:(10743) एका समारंभात 200 पाहुणे होते, 60% पाहुण्यांनी शाकाहारी जेवण घेतलं, 50% पाहुण्यांनी मांसाहारी जेवण घेतलं, 30% पाहुण्यांनी शाकाहारी आणि मांसाहारी दोन्ही प्रकारचं जेवण घेतलं. तर समारंभातील किती पाहुणे न जेवताच गेले?

A.30

B.35

C.40

D.45

Answer: C.40

Reference ID:(10720) _____ पर्यंत माऊंटस्टुअर्ट एल्फिन्स्टनने बॉम्बे प्रांतावर सत्ता केली.

A.1818 पासून ते 1827

B.1817 पासून ते 1826

C.1815 पासून ते 1825

Answer: A.1818 पासून ते 1827

Reference ID:(10729) खालील माहिती काळजीपूर्वक वाचा आणि खाली दिलेल्या प्रश्नाचे उत्तर द्या.

L, M, N, P, Q, R, S, आणि T हे आठ व्यक्ती केंद्रभागी तोंड करून गोलाकार टेबलाभोवती बसले आहेत. Q हा P आणि R चा शेजारी नाही. M हा T च्या डावीकडून दुसरा आहे आणि P च्या उजवीकडून तिसरा आहे. R हा N च्या डावीकडून तिसरा आहे, जो लगेचच T चा डावीकडे आहे. L हा P च्या उजवीकडून दुसरा आहे. व्यक्तींच्या खालील जोड्यांपैकी कोणती जोडी T च्या शेजारी आहे.

A.NQ

B.MN

C.QS

D.RP

Answer: A.NQ

Reference ID:(10466) Which of the following options best combines the two given sentences?

I was tired of walking. I wanted to take rest.

A.Wanting to rest, I was tired of walking.

B.Being tired of walking, I wanted to take rest.

C.As I was tired, I was wanting to rest.

D.I being tired of walking, I took rest.

Answer: B.Being tired of walking, I wanted to take rest.

Reference ID:(10459) Choose the appropriate collective noun to complete the sentence:

The workers needed _____ to open the locked chest of drawers.

A.a carton of instruments

B.a set of tools

C.a bunch of tools

D.a packet of tools

Answer: B.a set of tools

Reference ID:(10713) खालीलपैकी कोणत्या संघाने 2017-18 वर्षामधील "19 वर्षाखालील कूच बेहार करंडक" जिंकला?

A.विदर्भ

B.बंगलुरू

C.दिल्ली

D.हैदराबाद

Answer: A.विदर्भ

Reference ID:(10732) एका विक्रेत्याने एक पंखा 1040 रुपयांना खरेदी केला. याच्या अंकित मूल्यावर 20% सूट दिल्यानंतर त्याला 20% नफा होतो. पंख्याची अंकित किंमत काढा.

A.1456 रुपये

B.1800 रुपये

C.1560 रुपये

D.1248 रुपये

Answer: C.1560 रुपये

Reference ID:(10476) Choose the option that best expresses the meaning of the highlighted idiom/phrase:

The busy traffic entrance was a hazard to **people walking on foot**.

A.Peddlers

B.Footpath

C.Pedestrians

D.Persistence

Answer: C.Pedestrians

Reference ID:(10495)

योग्य शब्द वापरा.

इंद्रधनुष्यात सात ----- असतात.

A.रंग

B.रंगा

C.रांगा

D.रंगानी

Answer:

A.रंग

Reference ID:(10705)

खालीलपैकी कोणी अलिकडे नौसेनाधिपती सुनिल लांबांच्या जागी पुढील नौदल अध्यक्ष म्हणून उप नौसेनाधिपती करमवीर सिंहांच्या नियुक्तीला अवाहन करणारी त्याची याचिका सशस्त्र सेना न्यायाधिकरणामधून मागे घेतली?

A.बिमल वर्मा

B.निर्मल कुमार वर्मा

C.बिमल लांबा

D.रॉबीन के धवन

Answer:

A.बिमल वर्मा

Reference ID:(10497)

पुढील पुढील वाक्यातील विरामचिन्ह ओळखा.
श्रीराम महाविद्यालयाचा विद्यार्थी-प्रतिनिधी झाला.

A.संयोगचिन्ह

B.अवतरण चिन्ह

C.अपसरण चिन्ह

D.प्रश्नचिन्ह

Answer:

A.संयोगचिन्ह

Reference ID:(10486)

पुढील वाक्यातील उद्देश्याविस्तार ओळखा.
चांगल्या आशयाला तसाच चांगला घाटही हवा.

A.आशयाला

B.चांगला

C.चांगल्या

D.हवा

Answer:

C.चांगल्या

Reference ID:(10741)

एक विक्रेता 20% नफ्याने त्याच्या मालाची विक्री करतो आणि त्यासोबतच तो 1 किग्रॅ ऐवजी 800 ग्रॅमचे वजन वापरतो. त्याच्या एकूण नफ्याची टक्केवारी काढा?

A.40%

B.45%

C.50%

D.55%

Answer:

C.50%

Reference ID:(10491)

पुढील वाक्यातील अव्ययाचा प्रकार ओळखा.
'ओहो! फारच उशीर होईल वाटतंय आज मला!'

A.केवलप्रयोगी अव्यय

B.शब्दयोगी अव्यय

C.क्रियाविशेषण अव्यय

D.उभयान्वयी अव्यय

Answer:

A.केवलप्रयोगी अव्यय

Reference ID:(10479)

दिलेल्या- शब्दगटातून विरुद्धार्थी शब्द ओळखा.
खते – नैसर्गिक X -----

A.उपयुक्त

B.कृत्रीम

C.अनुपयुक्त

D.महाग

Answer:

B.कृत्रीम

Reference ID:(10472)

Choose the most appropriate usage to fill in the blank in the given sentence:

The Chief Guest asked the graduating students not to _____ their worth.

A.estimate

B.reestimate

C.underestimate

D.estimation

Answer:

C.underestimate

Reference ID:(10493)

गटात न बसणारा शब्द ओळखा.
पहिला, सातवा, दुप्पट, धीट

A.पहिला

B.सातवा

C.दुप्पट

D.धीट

Answer:

D.धीट

Reference ID:(10711)

इ-पंचायत प्रकल्पांतर्गत सुधारित सेवा पोहचवण्यासाठी डेस्कटॉप संगणक, प्रिंटर आणि स्कॅनर मशीन आणि इंटरनेट कनेक्शन्सने सुसज्ज महाराष्ट्रामधील सर्व ग्रामपंचायतींना _____ म्हणून जाणले जाते.

A.संग्राम केंद्र

B.सहायता शिवार

C.किसान केंद्र

D.इ-ग्राम

Answer: A.संग्राम केंद्र

Reference ID:(10723) खालीलपैकी कोणाला मुंबई येथील हॉटेल सी प्रिंसेस येथे आंतरराष्ट्रीय मानवी अधिकार परिषदेद्वारे डॉ. बाबासाहेब आंबेडकर नोबेल पुरस्कार 2019 ने सन्मानित केले गेले?

A.सुधांशु कुमार

B.अशनूर कौर

C.मनिषा केळकर

D.तनिशा सिंह

Answer: A.सुधांशु कुमार

Reference ID:(10452) Choose the option that has the correct spelling.

A.Existance

B.Existence

C.Existanse

D.Existanc

Answer: B.Existence

Reference ID:(10745) 20184 ला पूर्ण वर्ग करण्यासाठी त्यामधून वजा होणारी सगळ्यात लहान संख्या आहे:

A.34

B.20

C.14

D.30

Answer: B.20

Reference ID:(10722) संजय निरुपम या काँग्रेस उमेदवाराच्या निवडणूक सभेला उपस्थित राहिल्याबद्दल महाराष्ट्र शासनाद्वारे एसीपी म्हणून कोणत्या कुस्तीपटूला निलंबित केले?

A.नरसिंह यादव

B.सुशिल कुमार

C.योगेश्वर दत्त

D.महावीर सिंह फोगाट

Answer:

A.नरसिंह यादव

Reference ID:(10494)

पुढील वाक्यांमधील विशेषण ओळखा.
त्याचे जवळजवळ पूर्ण काम माझ्याच अंगावर पडे.

A.त्याचे

B.जवळजवळ

C.अंगावर

D.काम

Answer:

B.जवळजवळ

Reference ID:(10746)

एक संख्या दुसऱ्या संख्येच्या दुप्पट आहे. जेव्हा मोठ्या संख्येला 50 मधून वजा केले जाते तेव्हा मिळणारी संख्या ही लहान संख्येला 40 मधून वजा केल्यावर मिळणाऱ्या संख्येपेक्षा 2 ने अधिक आहे. तर मग लहान संख्या ___ आहे.

A.7

B.8

C.6

D.5

Answer:

B.8

Reference ID:(10701)

पुढील वाक्यात पर्यायातील अचूक वाक्प्रचार निवडा.
सहलीला गेल्यावर अथर्व अचानक कचाट्यात सापडला.

A.इकडे आड तिकडे विहीर होणे

B.नामानिराळे राहणे

C.आगीतून फुफाट्यात

D.आतड्याला पीळ पाडणे

Answer:

A.इकडे आड तिकडे विहीर होणे

Reference ID:(10470)

Choose the correct form of conjunction for the given sentence:

That route is dangerous; _____, we have no guide.

A.likewise

B.consequently

C.besides

D.however

Answer:

C.besides

Reference ID:(10481)

रिकाम्या जागी योग्यी शब्द भरून जोडशब्द पूर्ण करा.
----- गुलाबी

A.लाडी

B.थंडी

C.गोडी

D.लाल

Answer:

C.गोडी

Reference ID:(10471)

Choose the correct form of conjunction for the given sentence:

I want you to reach the venue _____ the Chief Guest arrives.

A.and

B.since

C.before

D.till

Answer:

C.before

Reference ID:(10474)

Out of the following options, identify a simple sentence.

A.Do you know him?

B.Has he ever met you after school?

C.Did you see him before your school?

D.Is he as hard working as he looks?

Answer: A.Do you know him?

Reference ID:(10488) योग्य पर्यायाची निवड करा.
ते पहातच -----

A.राहिले

B.राहिलो

C.राहिली

D.राहिलात

Answer: A.राहिले

Reference ID:(10457) Choose the correct form of adjective for the given sentence:

George was a _____ opponent, and I respected him for that.

A.formidable

B.dreadful

C.forbidding

D.threatening

Answer: A.formidable

Reference ID:(10484) पुढील वाक्याचा प्रकार ओळखा.
ट्रेन नियमित धावू लागल्याने मुंबईकरांची कोंडी फुटली.

A.प्रश्नार्थी

B.मिश्र वाक्य

C.संयुक्त वाक्य

D.केवल वाक्य

Answer: D.केवल वाक्य

Reference ID:(10708)

केंद्रीय मंत्री नितीन गडकरी यांनी येथे बांधल्या जाणाऱ्या इंटर-मोडल स्थानकाच्या (आयएमएस) विकासाची आधारशिला ठेवली:

A.पुणे

B.नागपूर

C.सुरत

D.मुंबई

Answer:

B.नागपूर

Reference ID:(10737)

खाली दिलेल्या चार पत्त्यांपैकी कोणता पत्ता खाली दिलेल्या पत्त्याशी अचूकपणे जुळत नाही?

5 Commercial Street
E1 6BF
LONDON
UNITED KINGDOM
(+44)207/4228400

(i) 5 Commercial Street
E1 6BF
LONDON
UNITED KINGDOM
(+44)207/4228400

(ii)5 Commercial Street
E1 6BF
LONDON
UNITED KINGDOM
(+44)207/4228400

(iii) 5 Commercial Street
E1 6BF
LONDON
UNITED KINGDOM
(+44)207/4228400

(iv) 5 Commerclal Street
E1 6BF
LONDON
UNITED KINGDOM
(-44)207\4228400

A.i

B.ii

C.iii

D.iv

Answer:

D.iv

Reference ID:(10742)

एका पुस्तकाचा 3/8 भाग मी एका दिवसात वाचला आणि राहिलेल्या पुस्तकाचा 4/5 भाग दुसऱ्या दिवशी वाचला. 30 पानं वाचायची शिल्लक राहिली असतील तर त्या पुस्तकात एकूण किती पानं असतील?

A.440

B.340

C.240

D.140

Answer:

C.240

Reference ID:(10487)

'तू गेल्यावर्षी या परीक्षा बसलास' आख्यात ओळखा.

A.लाख्यात

B.ताख्यात

C.वाख्यात

D.ई-आख्यात

Answer:

A.लाख्यात

Reference ID:(10728)

एक आई आणि तिच्या मुलीच्या वयाचे गुणोत्तर अनुक्रमे 5:2 आहे. जर वर्षामध्ये त्यांच्या वयांचा गुणाकार 1000 असेल, तर 10 वर्षांनंतर आईचे वय काढा?

A.50 वर्षे

B.60 वर्षे

C.80 वर्षे

D.100 वर्षे

Answer: B.60 वर्षे

Reference ID:(10749) दर 75 किमीनंतर 3 मिनिटे थांबून एका रेल्वेने 100 किमी/तास एवढ्या सरासरी वेगाने प्रवास केला. आरंभिक ठिकाणावरून 600 किमीवरील गंतव्यापर्यंत पोहोचण्यासाठी तिने किती वेळ घेतला?

A.6 तास 24 मिनिटे

B.6 तास 21 मिनिटे

C.6 तास 18 मिनिटे

D.6 तास 15 मिनिटे

Answer: B.6 तास 21 मिनिटे

Reference ID:(10716) गाझियाबाद येथे 10 मार्च, 2019 रोजी _____ चा 50 वा स्थापना दिवस समारंभ आयोजित करण्यात आला होता.

A.सीमा सुरक्षा बल (बीएसएफ)

B.सहस्र सीमा बल (एसएसबी)

C.केंद्रीय राखीव पोलीस बल (सीआरपीएफ)

D.केंद्रीय उद्योग सुरक्षा दल (सीआयएसएफ)

Answer: D.केंद्रीय उद्योग सुरक्षा दल (सीआयएसएफ)

Reference ID:(10735) एका महिलेच्या पर्समध्ये फक्त 25 पैसे आणि 50 पैशांची नाणी आहेत. जर तिच्याकडे 20 रुपये मूल्याची एकूण 48 नाणी असतील, तर तिच्याकडे प्रत्येक प्रकारची किती नाणी आहेत?

A.20, 28

B.18, 30

C.16, 32

D.14, 34

Answer: C.16, 32

Reference ID:(10460)

Choose the option with the appropriate prefix to complete the given sentence:

The manager promised the tourists that they would get a _____ fund if they did not like the services.

A.pre-

B.re-

C.mis-

D.pro-

Answer:

B.re-

Reference ID:(10721)

महाराष्ट्रामधील पश्चिम घाटाचे सर्वोच्च शिखर _____ हे आहे.

A.कळसुबाई

B.तारामती

C.अंजनेरी

D.साल्हेर

Answer:

A.कळसुबाई

Reference ID:(10483)

पुढील वाक्याचा प्रकार ओळखा.
'अर्जुनाने उभय सैन्याची पाहणी केली आणि तो कृष्णाला म्हणाला'

A.प्रश्नार्थी

B.मिश्र वाक्य

C.संयुक्त वाक्य

D.केवल वाक्य

Answer:

C.संयुक्त वाक्य

Reference ID:(10727)

आता उत्तम आणि प्रवीण यांच्या वयांची बेरीज 100 वर्ष आहे. 5 वर्षांपूर्वी त्यांचे वय अनुक्रमे 2:1 या गुणोत्तरात होते. 10 वर्षांनंतर उत्तम आणि प्रवीण यांच्या वयांचे संबंधित गुणोत्तर काय असेल?

A.5:3

B.4:3

C.10:7

D.3:5

Answer:

A.5:3

Reference ID:(10462)

Choose the appropriate articles for the given sentence:

It was _____ cold morning, but _____ group was heading towards _____ colder region.

A.the, a, a

B.the, a, the

C.a, a, the

D.a, the, a

Answer:

D.a, the, a

Reference ID:(10734)

गणिताची पाठ्य पुस्तके असलेल्या एका पोत्याचे वजन 2 किलो 400 ग्रॅम आहे. जर गणिताच्या एका पाठ्य पुस्तकाचे वजन 300 ग्रॅम असेल, तर पोत्यामध्ये किती पाठ्य पुस्तके आहेत?

A.8

B.10

C.12

D.26

Answer:

A.8

Reference ID:(10739)

प्रश्न चिन्हाच्या जागी काय यायला हवे?
ABABCABCDABCD?

A.A

B.E

C.H

D.S

Answer:

B.E

Reference ID:(10467)

Choose the correct form of modal auxiliary verb for the given sentence:

We _____ respect our elders.

A.ought to

B.can

C.might

D.may

Answer:

A.ought to

Reference ID:(10715)

प्रधानमंत्री जी-वन (JI-VAN) योजनेचे पूर्ण नाव काय आहे?

A.जीव इंधन-वतावरण अनुकूल फसल अवशेष निवारण

B.जनता इंडियन वातावरण अनुकूल फसल अवशेष निवारण

C.जैव इंडियन वातावरण अनुकूल फसल अवशेष निवारण

D.जनता इंधन वातावरण अनुकूल अवशेष निवारण

Answer:

A.जीव इंधन-वतावरण अनुकूल फसल अवशेष निवारण

Reference ID:(10490)

क्रियापदानुसार कर्त्याच्या योग्य रूपाची निवड करा.
..... झोपलो.

A.आम्ही

B.तू

C.ते

D.ती

Answer:

A.आम्ही

Reference ID:(10703)

दिल्ली न्यायालयाने अलिकडे वीरभद्र सिंह यांच्या विरुद्ध अपराधिक गैरवर्तणूक आणि बेहिशेबी मालमत्ता जमा करण्याचे आरोप लावले, ते _____ चे माजी मुख्य मंत्री होते.

A.हिमाचल प्रदेश

B.हरियाणा

C.उत्तराखंड

D.पंजाब

Answer: A.हिमाचल प्रदेश

Reference ID:(10480) जोडशब्द नसलेला शब्द ओळखा.

A.पाटपाणी

B.पानसुपारी

C.ताटवाटी

D.सुवर्णपदक

Answer: D.सुवर्णपदक

Reference ID:(10704) खालीलपैकी कोणत्या कथक नर्तकीला नारी शक्ती पुरस्कार 2019 ने सन्मानित केले गेले?

A.सीमा मेहता

B.स्वाती अरविंद शिंगाडे

C.दिव्या कर्नाड

D.लक्ष्मी मेहता

Answer: A.सीमा मेहता

Reference ID:(10464) Choose the correct form of verb for the given sentence:

Greeks _____ lively discussions and so, bantering and debating _____ very much part of their national personality.

A.enjoying ...are

B.enjoys ...is

C.enjoy ... are

D.has enjoyed ... are being

Answer: C.enjoy ... are

Reference ID:(10748) P चे उत्पन्न हे Q च्या उत्पन्नाच्या 20% अधिक आहे. Q चे उत्पन्न हे P च्या उत्पन्नापेक्षा किती % कमी आहे?

A.18.54%

B.16.67%

C.17.76%

D.15.75%

Answer: B.16.67%

Reference ID:(10738) जर T = 20, TEN = 39, तर TIP =?

A.70

B.45

C.54

D.65

Answer: B.45

Reference ID:(10468) Choose the appropriate prepositions for the given sentence:

Kerosene is one _____ the products made _____ refined petroleum.

A.of ... off

B.in ... through

C.of ... from

D.of ... out

Answer: C.of ... from

Reference ID:(10712) "आपत्काळामध्ये मुलभूत अधिकारांचे निलंबन" ही कल्पना _____ कडून भारतीय संविधानामध्ये स्वीकारली गेली.

A.जर्मनीचे वेईमर संविधान

B.कॅनडाचे संविधान

C.ऑस्ट्रेलियाचे संविधान

D.सोव्हिएतचे संविधान

Answer: A.जर्मनीचे वेईमर संविधान